

OPCIÓ A

EXERCICI 1 [5 punts]

Llegiu el text següent i responeu a les qüestions.

La globalització del comerç internacionalitza cada cop més les qüestions de l'entorn amb el mercadeig dels recursos naturals, com el peix i la fusta a l'alça, i els moviments de capital privat proporcionen als inversors internacionals una fracció cada vegada més gran del «pastís» als indrets més allunyats del globus.

Els països industrialitzats cada vegada estan més enfrontats, com en el cas de la Unió Europea i els EUA, a temes que van des del canvi climàtic del planeta fins als organismes genèticament modificats. Els temes ambientals també han provocat conflictes entre els països del Nord i del Sud, on els països rics i els pobres queden dividits pel que fa a la forma de repartir-se la responsabilitat de frenar el declivi ecològic del planeta.

La globalització s'ha convertit en una paraula corrent. Ara bé, té uns significats bastant diferents per a diferents persones. Per a alguns és sinònim de creixement de les corporacions globals, les pràctiques esteses de les quals transcendeixen les fronteres i les lleialtats nacionals. Per a d'altres, la paraula es relaciona estretament amb la revolució de la informació i amb la mobilitat dels diners, les idees i el treball que han portat els ordinadors i altres noves tecnologies.

FRENCH, H., «Fer front a la globalització ecològica», *L'estat del món*, 2000

1. Identifiqueu les idees principals del text i distingiu amb paraules vostres els diferents significats del concepte *globalització*. [1 punt]
2. Esmenteu les característiques principals dels fluxos de mà d'obra en l'economia actual a escala mundial que s'estan produint com a conseqüència de la globalització. [1,5 punts]
3. Resumiu les principals conseqüències mediambientals, econòmiques, socials i polítiques que provoca el fenomen de la globalització. [2,5 punts]



EXERCICI 2 [5 punts]

Analitzeu el quadre estadístic següent i responeu a les qüestions.

ELS DOTZE MUNICIPIS MÉS EXTENSOS DE CATALUNYA

Nom del municipi	Comarca	Extensió en km ²	Població (1996)	Altitud sobre el nivell del mar
Tremp	Pallars Jussà	301	5.503	468
Naut Aran	Vall d'Aran	248	1.337	1.267
La Vall de Boí	Alta Ribagorça	219	757	1.130
Tortosa	Baix Ebre	215	30.088	12
Lleida	Segrià	211	112.035	155
Tivissa	Ribera d'Ebre	208	1.726	309
Vielha e Mijaran	Vall d'Aran	205	3.692	974
Alt Àneu	Pallars Sobirà	193	375	1.076
Alins	Pallars Sobirà	183	287	1.048
Montferrer i Calbó	Alt Urgell	177	730	732
Artesa de Segre	Noguera	176	3.068	318
Les Valls de Valira	Alt Urgell	170	748	740

Font: Institut d'Estadística de Catalunya

1. Descriviu la informació que us proporciona el quadre estadístic i indiqueu les característiques que comparteixen la majoria dels municipis més extensos de Catalunya i les zones del país on estan localitzats. [1 punt]
2. Exposeu breument les principals formes politicoadministratives de l'organització territorial a l'Estat espanyol i a Catalunya. [1,5 punts]
3. Definiu el municipi com a sistema d'organització territorial, resumiu la forma del seu sistema de govern i enumereu les principals competències municipals. [2,5 punts]

OPCIÓ B

EXERCICI 1 [5 punts]

Llegiu el text següent i responeu a les qüestions.

Durant les darreres cinc dècades, una tragèdia d'enormes dimensions s'ha estès pels boscos tropicals d'arreu del món. Aquest ecosistema únic, el més ric i vell de la Terra, s'està destruint a un ritme sense precedents, i tota la humanitat se'n veu afectada.

Només la meitat dels boscos tropicals que una vegada adornaren el planeta encara existeixen. Les darreres estimacions apunten que entre 750 i 800 milions d'hectàrees dels 1.500 a 1.600 milions d'hectàrees originals han estat talats. La major part dels boscos que resten són a la conca de l'Amazones, on antigament cobrien més de 600 milions d'hectàrees, una zona de quasi dos terços de l'extensió dels Estats Units.

En els darrers anys, salvar el que resta de les selves mundials ha esdevingut una causa internacional. Els governs, les organitzacions internacionals i agrupacions de ciutadans hi dediquen una atenció creixent. S'han llançat moltes iniciatives, inclosos plans i convenis de reducció del deute, sota els quals els països protegeixen determinades zones de selva en recompensa per mitigar part del seu deute extern. Però els plans no tindran èxit si simplement busquen preservar la selva. Les nacions del Tercer Món, enfonsades en una crisi financera, no tindran cap interès per salvar el bosc llevat que vegin que en poden treure algun profit.

Estudis recents han mostrat que els tradicionals usos no destructius de la selva, com l'extracció del cautxú i l'agrosilvicultura, assoleixen recompenses econòmiques més importants que l'explotació forestal, l'agricultura d'artiga o la ramaderia. Gairebé a qualsevol lloc on hi ha selves hi ha una agrosilvicultura tradicional; aquesta és molt més productiva que els cultius que les destrueixen i permet als camperols de romandre a la seva terra sense haver-se de desplaçar.

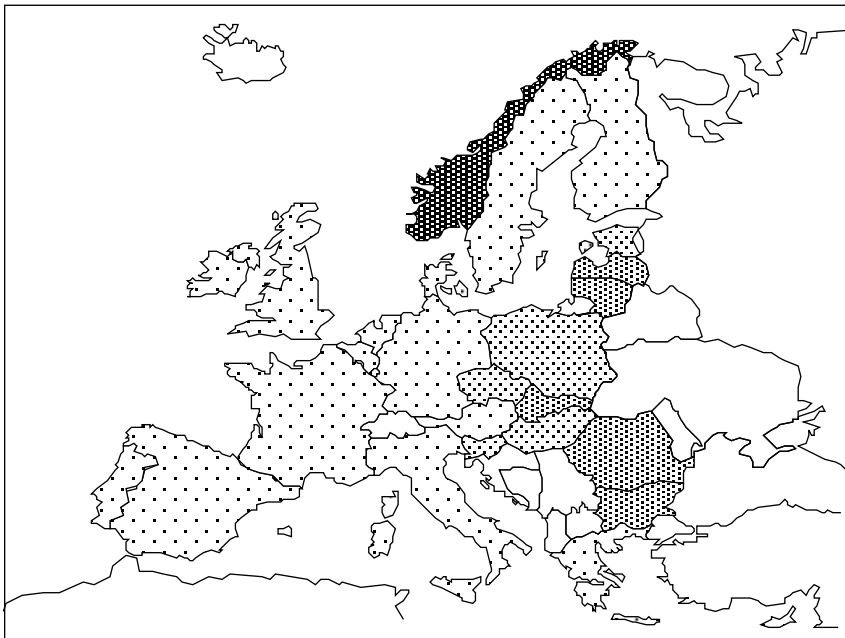
LEAN, Geoffrey, i d'altres, *Atles del medi ambient*, Barcelona, 1991





1. Identifiqueu i resumiu les idees principals del text. [1 punt]
2. Exposeu algunes causes de la desforestació de les selves tropicals i les seves conseqüències. [1,5 punts]
3. Enumereu els principals problemes mediambientals del món d'avui i comenteu-ne breument un d'acord amb l'esquema següent: definició, abast, causes i conseqüències del problema i, si escau, mesures adoptades per solucionar-lo. [2,5 punts]

EXERCICI 2 [5 punts]

Analitzeu el mapa següent i responeu a les qüestions

MAPA DELS PAÏSOS EUROPEUS SEGONS LA SEVA RELACIÓ AMB LA UE



-  Estats membres de la UE.
-  Estats membres que van iniciar negociacions d'adhesió a la UE el 1998 i que tenen preferència per incorporar-s'hi a partir del 2005.
-  Altres Estats que poden incorporar-se a la UE a partir del 2005.
-  Estats que han decidit en referèndum no formar part de la UE.

1. Descriu la informació que us proporciona el mapa i indiqueu la situació política dels Estats europeus respecte a la Unió Europea. ¿Quin Estat va decidir en referèndum no formar-ne part? [1 punt]
2. Exposeu les successives ampliacions que ha tingut la Unió Europea des del seu origen fins a l'actualitat i concreteu-ne les dates i els Estats que s'hi han anat incorporant. [1,5 punts]
3. Definiu què és la Unió Europea i indiqueu-ne l'origen, els objectius i les funcions principals dels seus òrgans de govern. [2,5 punts]