



Proves d'Accés a la Universitat. Curs 2012-2013

Geografia

Sèrie 1

Escolliu UNA de les dues opcions (A o B).

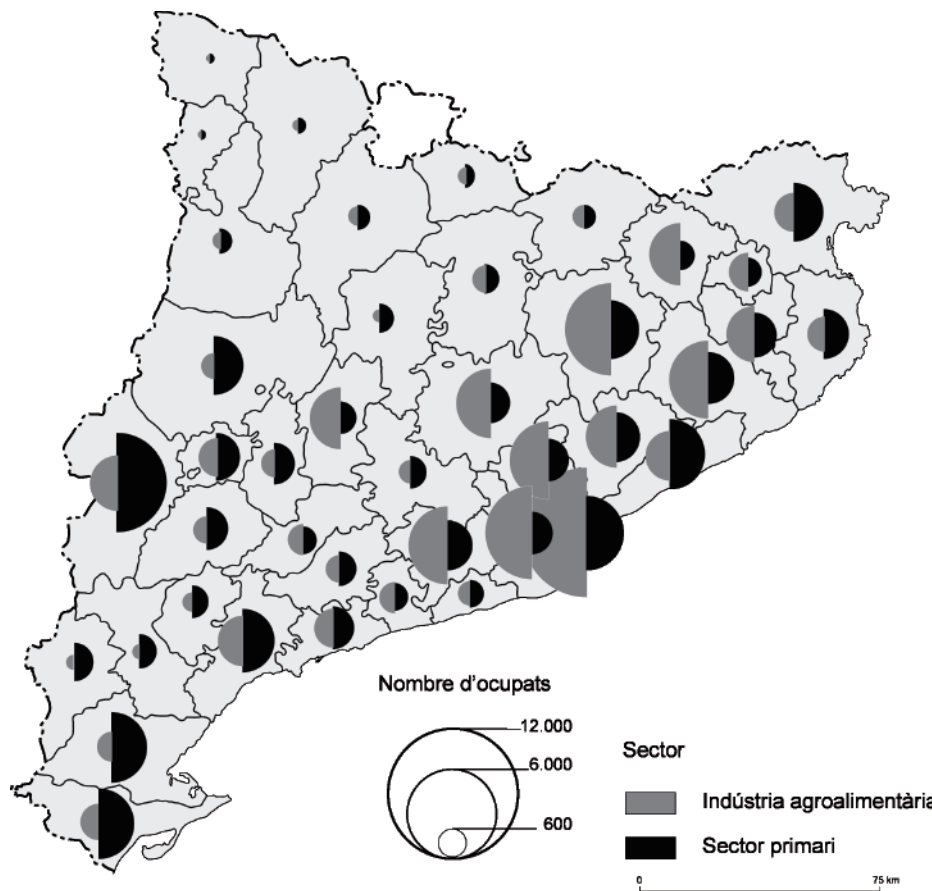
OPCIÓ A

Exercici 1

[5 punts]

Observeu el mapa següent i responeu a les preguntes plantejades.

Total de persones ocupades en el sector primari i en la indústria agroalimentària (2007)



FONT: Ignasi ALDOMÀ. *Atles de la nova ruralitat*. Lleida: Fundació del Món Rural, 2009.

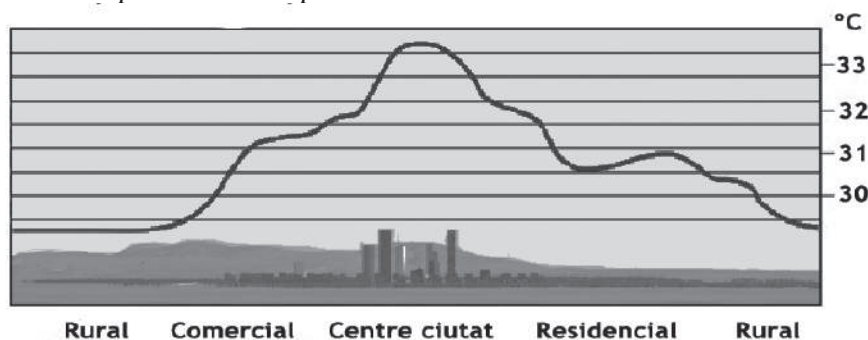
1. Descriuiu la informació representada en el mapa.
[1 punt]
2. Definiu els termes *població activa agrària* i *agroindústria*.
[1 punt]
3. **a)** Identifiqueu les zones on les persones ocupades en el sector primari representen una majoria respecte de les ocupades en la indústria agroalimentària. Expliqueu-ne raonadament les causes.
b) Expliqueu els motius de l'elevat nombre de persones ocupades en la indústria agroalimentària en algunes comarques de l'Àrea Metropolitana de Barcelona.
[1,5 punts]
4. Expliqueu les transformacions recents de l'activitat agrícola a Catalunya, d'acord amb l'esquema següent:
a) L'adaptació a la PAC (política agrària comunitària) del camp català.
b) L'aparició de l'agricultura i la ramaderia ecològiques.
[1,5 punts]

Exercici 2

[5 punts]

Observeu el gràfic següent i responeu a les qüestions plantejades.

Representació esquemàtica de l'illa de calor urbana



FONT: *The Comet Program* [en línia].

1. Descriuiu la informació representada en el gràfic.
[1 punt]
2. Definiu els termes *illa de calor* i *microclima*.
[1 punt]
3. Per què les temperatures més altes es donen en el centre de la ciutat?
[1,5 punts]
4. **a)** El fenomen de l'illa de calor urbana és una conseqüència directa del canvi climàtic global o es deu a altres causes? Argumenteu la resposta.
b) Exposeu altres casos de microclimes causats per la intervenció humana.
[1,5 punts]

OPCIÓ B

Exercici 1

[5 punts]

Observeu el mapa següent i responeu a les qüestions plantejades.

La població urbana al món (2012)



FONT: Banc Mundial [en línia].

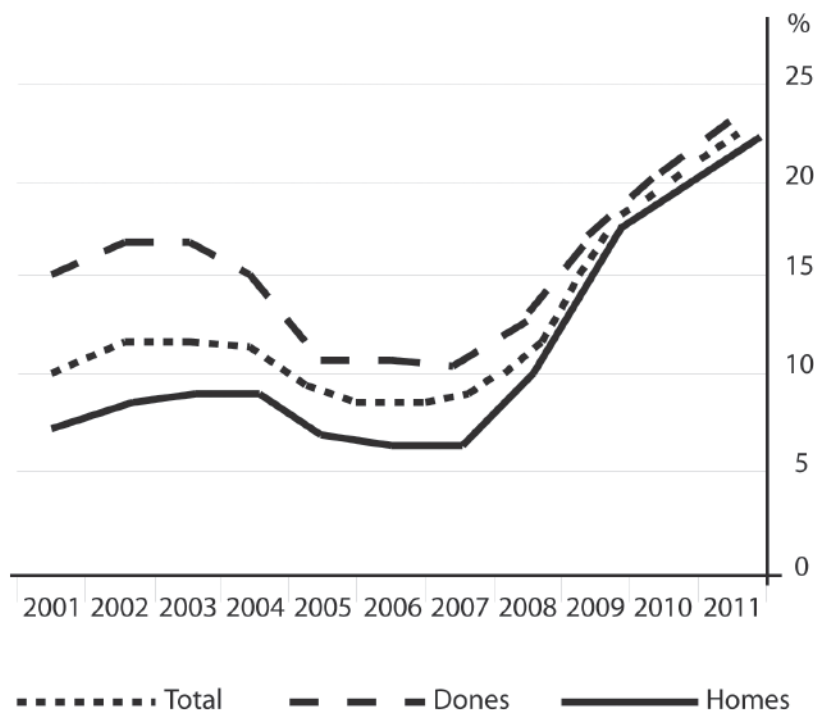
1. Descriviu la informació representada en el mapa.
[1 punt]
2. Definiu els termes *procés d'urbanització* i *segregació espacial a les ciutats*.
[1 punt]
3. Expliqueu les diferències principals relacionades amb la intensitat del fenomen urbanitzador entre els països desenvolupats i els països en via de desenvolupament.
[1,5 punts]
4. Compareu els problemes de segregació i polarització social que existeixen en els dos tipus de ciutat següents:
 - a) Ciutats dels països desenvolupats.
 - b) Ciutats dels països en via de desenvolupament.[1,5 punts]

Exercici 2

[5 punts]

Observeu el gràfic següent i responeu a les qüestions plantejades.

Evolució de la taxa d'atur a Espanya, 2001-2011 (% de la població activa)



FONT: Instituto Nacional de Estadística (INE), 2012.

1. Descriu la informació representada en el gràfic.
[1 punt]
2. Definiu els termes *taxa d'atur* i *economia submergida*.
[1 punt]
3. L'atur i la població activa:
 - a) Per què augmenta la taxa d'atur a partir del 2007?
 - b) Quina ha estat la dinàmica de la població activa per sectors productius en els darrers anys?
 - c) De quins factors depèn el percentatge de població activa d'un país? Quina influència té l'envelliment de la població sobre el percentatge de població activa?[1,5 punts]
4. El problema de l'atur a Espanya:
 - a) Relacioneu el problema de l'atur amb l'evolució dels sectors econòmics en els darrers anys.
 - b) Indiqueu quins col·lectius són els més perjudicats per l'atur i quines posicions defensen els agents socials i econòmics per reduir-lo.[1,5 punts]

