



Proves d'accés a la universitat

Matemàtiques

Sèrie 1

Qualificació		TR
Qüestions	1	
	2	
	3	
	4	
	5	
	6	
Suma de notes parcials		
Qualificació final		

Etiqueta de l'alumne/a

Ubicació del tribunal

Número del tribunal

Etiqueta de qualificació

Etiqueta del corrector/a

Responeu a QUATRE de les sis qüestions següents. En les respostes, expliqueu sempre què voleu fer i per què.

Cada qüestió val 2,5 punts.

Podeu utilitzar calculadora, però no es permet l'ús de calculadores o altres aparells que poden emmagatzemar dades o que poden transmetre o rebre informació.

Podeu utilitzar les pàgines en blanc (pàgines 14 i 15) per a fer esquemes, esborranys, etc., o per a acabar de respondre a alguna qüestió si necessiteu més espai. En aquest últim cas, cal que ho indiqueu clarament al final de la pàgina de la qüestió corresponent.

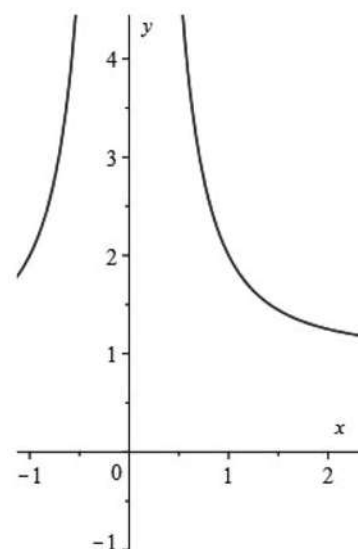
1. Tracem la recta tangent a la funció $f(x) = \frac{1}{x^2} + 1$ per un punt

$P = (a, f(a))$ del primer quadrant. Aquesta recta juntament amb els eixos de coordenades formen un triangle.

- a) Comproveu que l'àrea d'aquest triangle, en funció de a , ve donada per la funció

$$g(a) = \frac{(a^2 + 3)^2}{4a}.$$

[1,25 punts]



- b)** En quin punt P l'àrea del triangle és mínima? Calculeu aquest valor mínim.
[1,25 punts]

Espai per al corrector/a		
Qüestió 1	a	
	b	
	Total	

2. Considereu el sistema d'equacions lineals següent, que depèn del paràmetre real k :

$$\begin{cases} 5x + y + 4z = 19 \\ kx + 2y + 8z = 28 \\ 5x + y - kz = 23 + k \end{cases}$$

a) Discuti el sistema per als diferents valors del paràmetre k .

[1,25 punts]

b) Resoleu, si és possible, el sistema per al cas $k = 0$.

[1,25 punts]

Espai per al corrector/a		
Qüestió 2	<i>a</i>	
	<i>b</i>	
	Total	

3. **a)** Calculeu l'equació general del pla π que passa pel punt $(8, 8, 8)$ i té com a vectors directors $\mathbf{u} = (1, 2, -3)$ i $\mathbf{v} = (-1, 0, 3)$.
[1,25 punts]

b) Determineu el valor del paràmetre a perquè el punt $(1, -5, a)$ pertanyi al pla π i calculeu l'equació paramètrica de la recta que passa per aquest punt i és perpendicular al pla π .

[1,25 punts]

Espai per al corrector/a		
Qüestió 3	a	
	b	
	Total	

4. Considereu la funció $f(x) = \frac{ax^2 + b}{x}$, en què a i b són dos paràmetres reals. Calculeu els valors de a i b de manera que la funció $f(x)$ tingui una asímptota obliqua de pendent 1 i un mínim en el punt de la gràfica d'abscissa $x = 2$.
[2,5 punts]

Espai per al corrector/a		
Qüestió 4	Total	

5. Sigui la matriu $A = \begin{pmatrix} 1 & 1 \\ -3 & -4 \end{pmatrix}$.

a) Trobeu la matriu X que satisfà l'equació $AX = I - 3X$, en què I és la matriu identitat d'ordre 2.

[1,25 punts]

- b)** Comproveu que la matriu X és invertible i calculeu-ne la matriu inversa.
[1,25 punts]

Espai per al corrector/a		
Qüestió 5	<i>a</i>	
	<i>b</i>	
	Total	

6. Considereu la funció $f(x) = x^3$.
- a)** Calculeu en quin punt del tercer quadrant la recta tangent a $y = f(x)$ és paral·lela a la recta $3x - y = 4$. Calculeu l'equació de la recta tangent a la gràfica en aquest punt i feu un dibuix aproximat de la gràfica de la funció i les dues rectes.
- [1,25 punts]

- b)** Calculeu l'àrea de la regió delimitada per $y=f(x)$ i la recta $y=3x+2$.
[1,25 punts]

Espai per al corrector/a		
Qüestió 6	<i>a</i>	
	<i>b</i>	
	Total	

[Pàgina per a fer esquemes, esborranys, etc., o per a acabar de respondre a alguna qüestió.]

[Pàgina per a fer esquemes, esborranys, etc., o per a acabar de respondre a alguna qüestió.]

--	--

--	--

Etiqueta de l'alumne/a



Institut
d'Estudis
Catalans



Proves d'accés a la universitat

Matemàtiques

Sèrie 3

Qualificació		TR
Qüestions	1	
	2	
	3	
	4	
	5	
	6	
Suma de notes parcials		
Qualificació final		

Etiqueta de l'alumne/a

Ubicació del tribunal

Número del tribunal

Etiqueta de qualificació

Etiqueta del corrector/a

Responeu a QUATRE de les sis qüestions següents. En les respostes, expliqueu sempre què voleu fer i per què.

Cada qüestió val 2,5 punts.

Podeu utilitzar calculadora, però no es permet l'ús de calculadores o altres aparells que poden emmagatzemar dades o que poden transmetre o rebre informació.

Podeu utilitzar les pàgines en blanc (pàgines 14 i 15) per a fer esquemes, esborranys, etc., o per a acabar de respondre a alguna qüestió si necessiteu més espai. En aquest últim cas, cal que ho indiqueu clarament al final de la pàgina de la qüestió corresponent.

1. Sigui $A = \begin{pmatrix} 1 & 0 & 2 \\ 1 & -1 & 1 \\ 0 & a & 1 \end{pmatrix}$, en què a és un paràmetre real.

a) Determineu el rang de la matriu A en funció del paràmetre a .

[1,25 punts]

b) Comproveu que $\det(A^2 + A) = 0$.

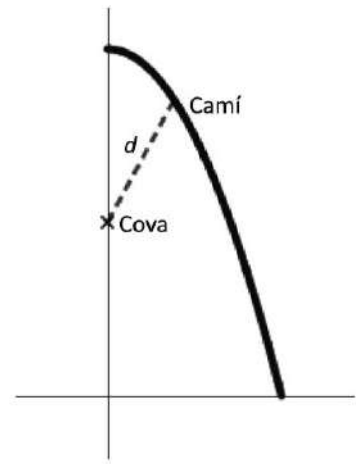
[1,25 punts]

Espai per al corrector/a		
Qüestió 1	<i>a</i>	
	<i>b</i>	
	Total	

2. S'han trobat unes pintures rupestres en una cova situada en una zona molt pedregosa. Hi ha un camí que voreja parcialment la cova format per l'arc de corba $y = 4 - x^2$ d'extremes $(0, 4)$ i $(2, 0)$. La cova està situada en el punt de coordenades $(0, 2)$, tal com es mostra en la figura, i es vol habilitar un accés rectilini d des del camí a la cova que sigui el més curt possible.

- a) Identifiqueu a la gràfica de la figura les coordenades de la cova i del punt del camí des d'on es vol habilitar l'accés. Comproveu que la funció $f(x) = \sqrt{x^4 - 3x^2 + 4}$ calcula la distància des de cada punt del camí a la cova.

[1,25 punts]



b) Calculeu les coordenades del punt del camí que queda més a prop de la cova i digueu quina serà la longitud de l'accés d .

[1,25 punts]

Espai per al corrector/a		
Qüestió 2	a	
	b	
	Total	

3. Considereu el sistema d'equacions lineals següent:

$$\begin{cases} ax + y = a \\ x + ay + z = 5 \\ x + 2y + z = 5 \end{cases}$$

a) Discuti el sistema per als diferents valors del paràmetre a .

[1,25 punts]

b) Resoleu el sistema per al cas $a = 2$.
[1,25 punts]

Espai per al corrector/a		
Qüestió 3	a	
	b	
	Total	

4. Sigui la funció $f(x) = \frac{1}{x} \cdot \ln(x)$, en què \ln indica el logaritme neperià, definida per a $x > 0$.
- a)** Calculeu les coordenades del punt de la corba $y = f(x)$ en què la recta tangent a la corba en aquest punt és horitzontal. Estudieu si aquest punt és un extrem relatiu i classifiqueu-lo.
- [1,25 punts]

b) Calculeu l'àrea del recinte delimitat per la corba $y = f(x)$, les rectes verticals $x = 1$ i $x = e$ i l'eix de les abscisses.

[1,25 punts]

Espai per al corrector/a		
Qüestió 4	<i>a</i>	
	<i>b</i>	
	Total	

5. Considereu la recta r d'equació $\frac{x-1}{2} = \frac{y-3}{-2} = \frac{z}{1}$ i la recta s que passa pel punt $P = (2, -5, 1)$

i que té per vector director $(-1, 0, -1)$.

a) Estudieu la posició relativa de les rectes r i s .

[1,25 punts]

- b)** Calculeu l'equació general del pla que és paral·lel a la recta r i conté la recta s .
[1,25 punts]

Espai per al corrector/a		
Qüestió 5	a	
	b	
	Total	

6. Una empresa de ceràmica vol posar a la venda una rajola quadrada de 20 cm de costat pintada a dos colors, de manera que la superfície de cada color sigui la mateixa i que si es posen les rajoles l'una al costat de l'altra es vegi un dibuix continu (figura 1).

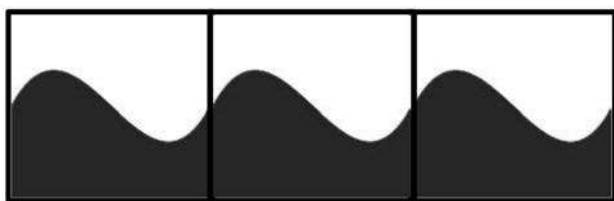


Figura 1

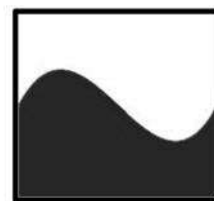


Figura 2

Per a fer-ho, l'empresa utilitza en cada rajola la funció $f(x) = x^3 - 3x^2 + 2x + 1$ enquadra entre els punts de coordenades $(0, 0)$, $(0, 2)$, $(2, 0)$ i $(2, 2)$, tal com es mostra en la figura 2, i fa servir com a unitat de mesura el decímetre.

- a) Justifiqueu que, efectivament, aquesta funció permet ajuntar les rajoles de manera contínua i derivable.

[1,25 punts]

b) Justifiqueu que aquesta funció divideix el quadrat esmentat en dues parts que tenen la mateixa superfície.

[1,25 punts]

Espai per al corrector/a		
Qüestió 6	<i>a</i>	
	<i>b</i>	
	Total	

[Pàgina per a fer esquemes, esborranys, etc., o per a acabar de respondre a alguna qüestió.]

[Pàgina per a fer esquemes, esborranys, etc., o per a acabar de respondre a alguna qüestió.]

--	--

--	--

Etiqueta de l'alumne/a



Institut
d'Estudis
Catalans